



✓ Посмотри и запомни. В одной банке много ягод, а в другой их нет. Пусто — это ноль.



✓ Обведи в кружок корзинку, в которой ничего нет.



✓ Напиши цифру ноль.

--	--	--	--	--	--	--	--	--	--

✓ Обведи бабочек, летящих вправо, жёлтым карандашом, а бабочек, летящих влево, — синим.






✓ Какая птичка выше всех, какая — ниже всех? Какая птичка летит ВПРАВО, а какая — ВЛЕВО?







✓ Каких предметов на рисунке по одному? Раскрась их.



✓ Подумай и напиши эти цифры в подходящих клеточках.



✓ Сосчитай и напиши, сколько шишек на каждой ёлочке.




✓ Продолжи ряд цифр, соблюдай закономерность.

0	1								
---	---	--	--	--	--	--	--	--	--

Число и цифра 2



✓ Сколько птиц на каждой ветке? Обведи в кружок ветку с двумя птичками.




✓ Напиши цифру 2.

2	2	2							
---	---	---	--	--	--	--	--	--	--


✓ Продолжи ряд цифр, соблюдай закономерность.

0	1	2	0						
---	---	---	---	--	--	--	--	--	--

✓ Сколько предметов нужно дорисовать в каждом прямоугольнике, чтобы их стало по 2? Скажи и дорисуй.



✓ Сколько предметов в каждой группе? Напиши в кружках соответствующие цифры.




✓ Соедини ботинки так, чтобы получились пары.





✓ Обведи группы, в которых по 3 предмета. Назови их.



✓ Напиши цифру 3.

3	3	3							
---	---	---	--	--	--	--	--	--	--