


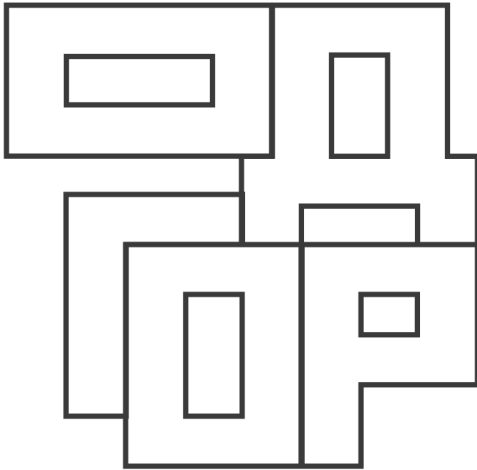
①

Продолжи закономерность.



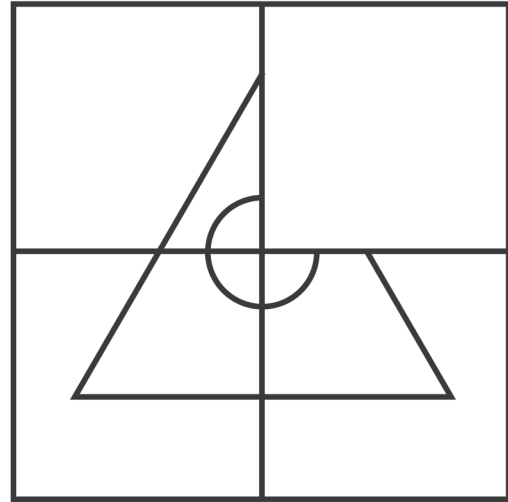
②

Найди все буквы и составь слово.




③

Дорисуй недостающий фрагмент.



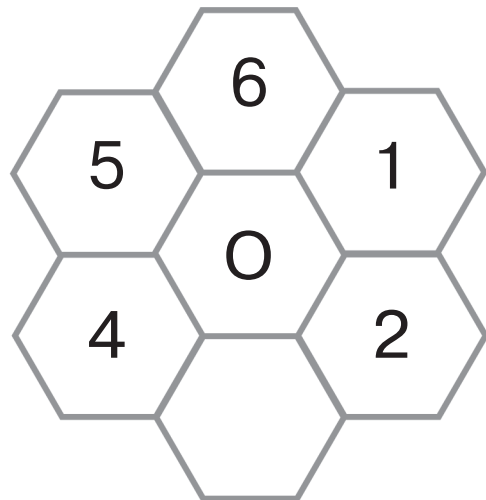
④

У какой птицы 40 букв А?

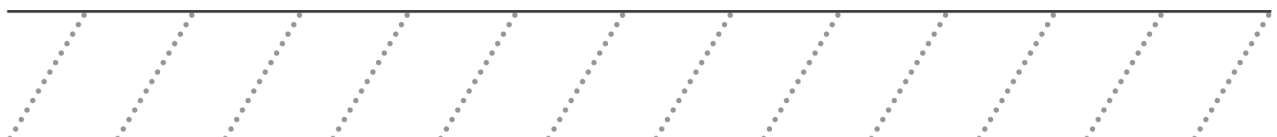


⑤

Допиши недостающее число.




Обведи по точкам.




①

Впиши
пропущенные
числа.



②

Найди правильный силуэт
лисички.



③

Найди и обведи спрятанные
слова: **щенок, рыба, ворона.**

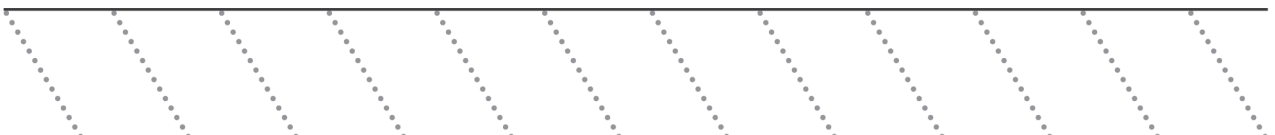
О	Ж	О	У	Р	Ф	Б
Т	У	Р	Х	Ы	В	Ы
И	В	Щ	Е	Н	О	К
К	Т	Д	Ы	З	Р	Ч
Г	В	Ф	М	Ь	О	Ю
Р	Ы	Б	А	К	Н	Е
Ч	С	Ъ	Ж	Д	А	Р

④

Найди 5 отличий.



Обведи по точкам.



①

Обведи в кружок первую и третью картинки.




②

Соедини цифры по порядку.




③

Найди 2 одинаковые короны.

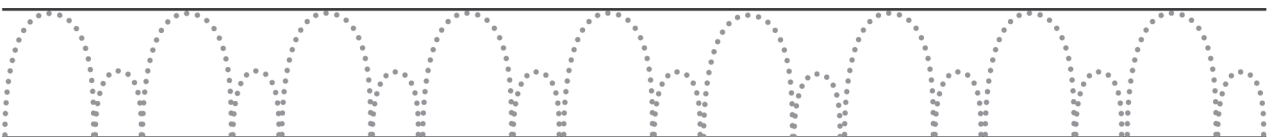


④

Найди 5 отличий.



Обведи по точкам.



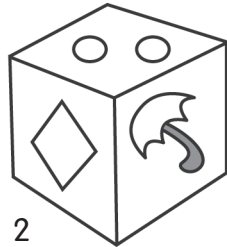
①

Обведи в кружок вторую и четвёртую картинки.



②

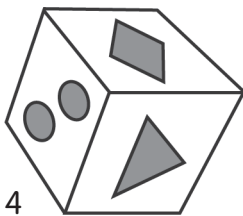
Попробуй догадаться, какой кубик развёрнут.




2




1



4




3




③

Два мальчика играли в шахматы 1 час. Сколько времени играл каждый мальчик?



④

Какие картинки должны быть в пустых клеточках? Нарисуй!



Обведи по точкам.

