

СОДЕРЖАНИЕ

ПРОВЕРОЧНЫЕ РАБОТЫ

Работа 1	4	Работа 9	12
Работа 2	5	Работа 10	13
Работа 3	6	Работа 11	14
Работа 4	7	Работа 12	15
Работа 5	8	Работа 13	16
Работа 6	9	Работа 14	17
Работа 7	10	Работа 15	18
Работа 8	11		

МАТЕМАТИЧЕСКИЕ ДИКТАНТЫ

Работа 16	19	Работа 26	24
Работа 17	19	Работа 27	24
Работа 18	20	Работа 28	25
Работа 19	20	Работа 29	25
Работа 20	21	Работа 30	26
Работа 21	21	Работа 31	26
Работа 22	22	Работа 32	27
Работа 23	22	Работа 33	27
Работа 24	23	Работа 34	28
Работа 25	23	Работа 35	28

ТЕСТЫ

Работа 36	29	Работа 41	34
Работа 37	30	Работа 42	35
Работа 38	31	Работа 43	36
Работа 39	32	Работа 44	37
Работа 40	33	Работа 45	38

ГЕОМЕТРИЧЕСКИЕ ЗАДАНИЯ

Работа 46	39	Работа 50	43
Работа 47	40	Работа 51	44
Работа 48	41	Работа 52	45
Работа 49	42	Работа 53	46

ЗАДАНИЯ НА ЛОГИКУ И СМЕКАЛКУ

Работа 54	47	Работа 55	48
-----------	----	-----------	----



ПРОВЕРОЧНЫЕ РАБОТЫ

Работа 1

Вариант 1

1. Выполни действия.

$$1 + 9 = \boxed{} \quad 8 - 3 = \boxed{} \quad 4 + 4 = \boxed{} \quad 2 + 6 = \boxed{}$$
$$4 + 6 = \boxed{} \quad 7 - 2 = \boxed{} \quad 3 - 0 = \boxed{} \quad 5 - 4 = \boxed{}$$

2. Сравни и поставь знак $>$, $<$ или $=$.

$$10 - 2 \dots 9 - 2 \qquad 10 - 5 \dots 9 - 4$$
$$3 + 5 \dots 5 + 3 \qquad 9 - 6 \dots 7 - 3$$

3. Вставь пропущенное число.

$$\boxed{} - 2 = 7 \qquad 8 - \boxed{} = 6 \qquad 5 - \boxed{} = 2$$
$$\boxed{} + 1 = 8 \qquad 1 + \boxed{} = 9 \qquad 4 + \boxed{} = 5$$

4. На доске записано 9 примеров. Саша решил 6. Сколько примеров ему осталось решить?

--	--	--	--	--	--	--	--	--	--	--	--	--	--	--	--	--	--	--	--

Вариант 2

1. Выполни действия.

$$4 + 5 = \boxed{} \quad 8 + 2 = \boxed{} \quad 7 - 4 = \boxed{} \quad 2 + 7 = \boxed{}$$
$$6 - 0 = \boxed{} \quad 10 - 9 = \boxed{} \quad 9 - 6 = \boxed{} \quad 0 - 0 = \boxed{}$$

2. Вставь пропущенное число.

$$8 - \boxed{} = 4 \qquad 8 - \boxed{} = 1 \qquad 5 - \boxed{} = 1$$
$$2 + \boxed{} = 9 \qquad \boxed{} - 3 = 4 \qquad 3 + \boxed{} = 5$$

3. Сравни и поставь знак $>$, $<$ или $=$.

$$9 - 1 \dots 8 - 1 \qquad 4 + 1 \dots 5 - 4$$
$$6 + 4 \dots 4 + 6 \qquad 1 + 1 \dots 5 - 2$$

4. В книге 8 страниц. Катя прочитала 6 страниц. Сколько страниц ей осталось прочитать?

--	--	--	--	--	--	--	--	--	--	--	--	--	--	--	--	--	--	--	--

4



МАТЕМАТИЧЕСКИЕ ДИКТАНТЫ

Работа 16

1. Увеличь 6 на 1.

2. Уменьши 6 на 3.

3. Сложи 2 и 4.

4. Вычти 1 из 6.

5. Найди сумму чисел 4 и 5.

6. Найди разность чисел 8 и 2.

7. 7 плюс 3.

8. 10 минус 1.

9. Увеличь 4 на 4.

10. Таня построила домик из 8 кубиков. Дима использовал на 1 кубик больше. Сколько кубиков в домике Димы?

--	--	--	--	--	--	--	--	--	--	--	--	--	--	--	--	--	--	--	--	--

Работа 17

1. Сложи 3 и 6.

2. Вычти 2 из 5.

3. Увеличь 7 на 3.

4. Уменьши 8 на 7.

5. Найди сумму чисел 4 и 6.

6. Найди разность чисел 8 и 4.

7. 3 плюс 3.

8. 6 минус 1.

9. Уменьши 9 на 1.

10. На первой клумбе распустилось 6 роз, а на второй — на 1 больше. Сколько роз распустилось на второй клумбе?

--	--	--	--	--	--	--	--	--	--	--	--	--	--	--	--	--	--	--	--	--



Работа 36

1. В каких примерах надо поставить знак «меньше»?

- 1) $4 \dots 2$ 2) $3 \dots 4$ 3) $3 \dots 1$ 4) $1 \dots 3$ 5) $2 \dots 1$

2. Найди примеры с ответом 2.

- 1) $4 - 2$ 2) $4 - 3$ 3) $3 - 2$ 4) $3 - 1$

3. Какое число надо вставить: $\dots + 1 = 3$?

- 1) 1 2) 2 3) 3

4. Какое число надо вставить: $4 - \dots = 2$?

- 1) 1 2) 2 3) 3 4) 4

5. В каких примерах надо поставить знак «больше»?

- 1) $4 \dots 2$ 2) $3 \dots 4$ 3) $3 \dots 1$ 4) $1 \dots 3$ 5) $2 \dots 1$

6. В каких примерах надо поставить знак «меньше»?

- 1) $5 \dots 3$ 2) $4 \dots 5$ 3) $4 \dots 2$ 4) $2 \dots 4$ 5) $3 \dots 1$

7. 5 — это 1 и ...

- 1) 3 2) 4 3) 5 4) 2

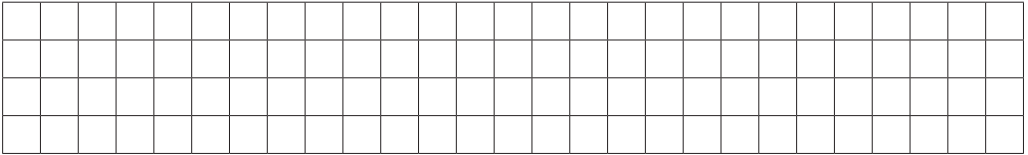
8. Какое число надо вставить: $\dots + 4 = 5$?

- 1) 1 2) 2 3) 3 4) 4 5) 5

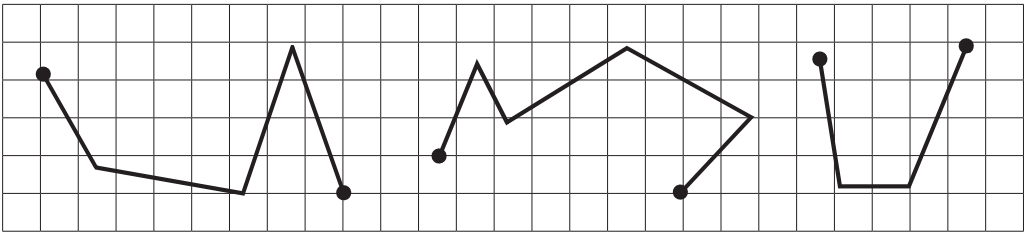
ГЕОМЕТРИЧЕСКИЕ ЗАДАНИЯ

Работа 46

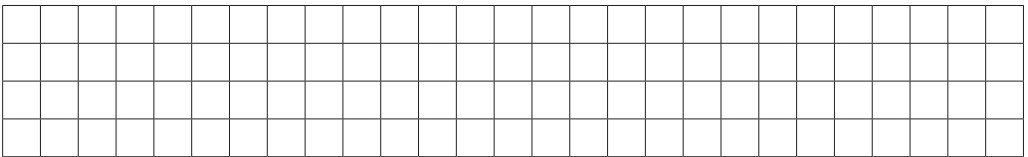
1. По линейке начерти отрезок синим карандашом, а под ним — зелёным. Синий отрезок должен быть длиннее зелёного.



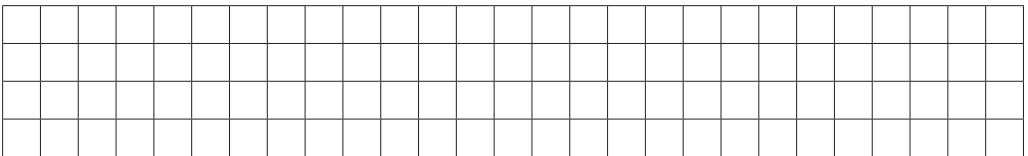
2. По линейке обведи ломаные. Надпиши, сколько у каждой из них звеньев и сколько вершин.



3. Начерти отрезки длиной 4 см, 6 см, 8 см.



4. Нарисуй в ряд треугольник и 5 кругов так, чтобы справа от треугольника было на 3 круга меньше, чем слева.



ЗАДАНИЯ НА ЛОГИКУ И СМЕКАЛКУ

Работа 54

1. Я задумал два числа. Когда я сложил их, получил 5. Когда из одного вычел другое, получил 3. Какие числа я задумал?

--	--	--	--	--	--	--	--	--	--	--	--	--	--	--	--	--	--	--	--

2. Брату 4 года, а сестре 6. Сколько лет будет брату, когда сестре будет 10?

--	--	--	--	--	--	--	--	--	--	--	--	--	--	--	--	--	--	--	--

3. Три мальчика играли в шахматы. Всего было сыграно 3 партии. Сколько партий сыграл каждый, если все сыграли поровну?

--	--	--	--	--	--	--	--	--	--	--	--	--	--	--	--	--	--	--	--

4. Нарисуй несколько треугольников так, чтобы их было больше, чем крыльев у 3 ворон, но меньше, чем лап у 2 тигров.

--	--	--	--	--	--	--	--	--	--	--	--	--	--	--	--	--	--	--	--

5. В комнате 2 матери и 2 дочери, при этом там всего 3 человека. Как это может быть?

--	--	--	--	--	--	--	--	--	--	--	--	--	--	--	--	--	--	--	--

6. Вике 9 лет. Сколько лет ей было 3 года назад?

--	--	--	--	--	--	--	--	--	--	--	--	--	--	--	--	--	--	--	--