

ВВЕДЕНИЕ


Перед вами обучающее пособие по развитию математических способностей. Выполняя задания, ребёнок потренируется считать и решать, писать цифры, различать плоские и объёмные геометрические фигуры, научится ориентироваться в пространстве и на листе бумаги, разовьёт мелкую моторику, мышление и логику, внимание и память.

Для занятий малышу понадобятся карандаши. Фломастеры и краски использовать нежелательно. При рисовании карандашом требуется нажатие пальцами на карандаш и кистью руки на лист, что способствует подготовке руки к письму. На фломастер нельзя давить, он предназначен для декоративного оформления.

Яркие иллюстрации, весёлые стихотворения, задания в игровой форме сделают процесс обучения лёгким и увлекательным.

Рекомендуемое время занятий — 20—25 минут.


Радуйтесь успехам вместе с ребёнком!





С мамой в парк идём гулять,
Чтоб вокруг всё сосчитать:
Три вороны, два кота,
Девять веток у куста,
Семь скамеек вдоль дорожки —
Посидим, устали ножки.







Один




Два



Три



Четыре




Пять




Шесть



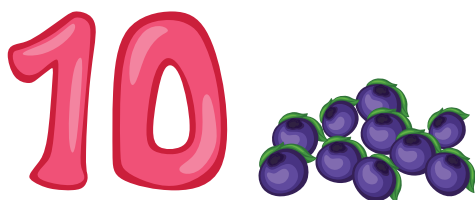
Семь



Восемь

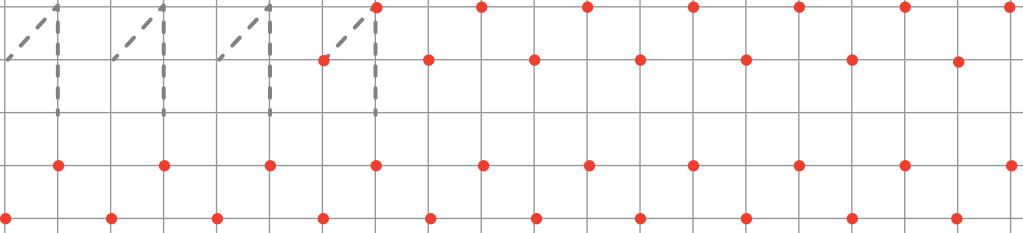
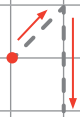


Девять

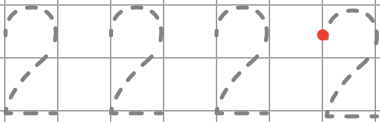
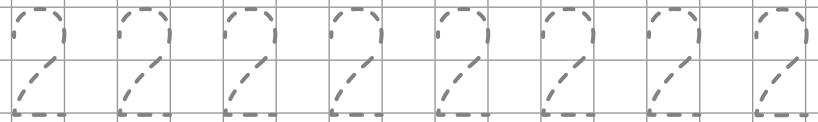


Десять

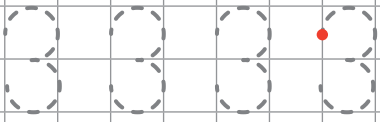
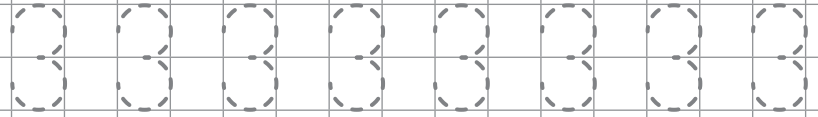
1

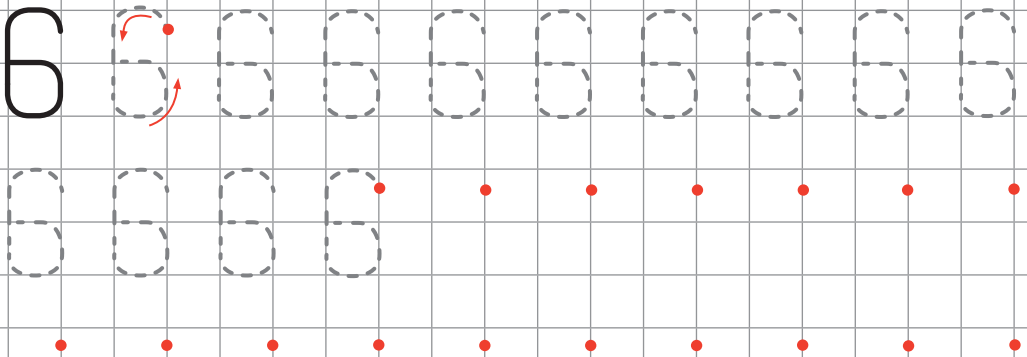
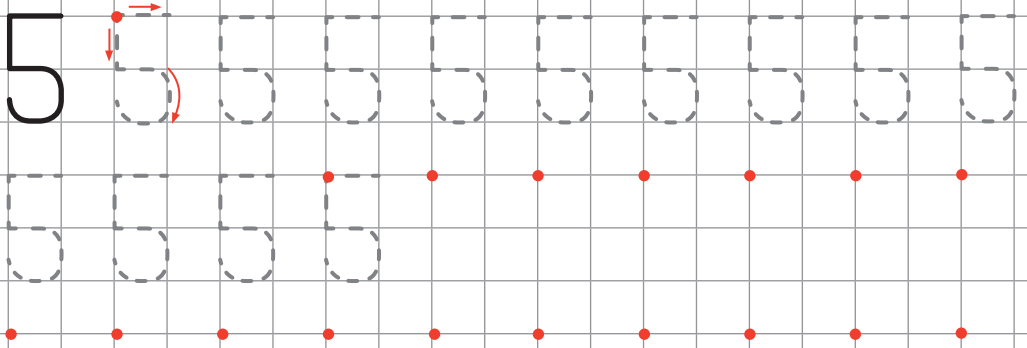
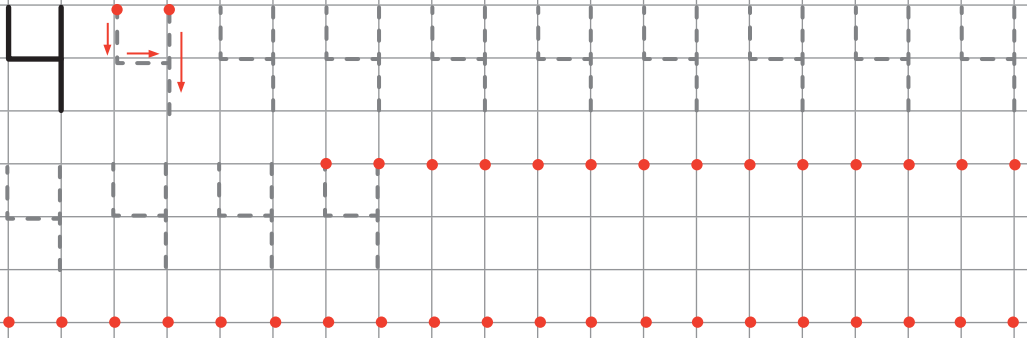



2



3

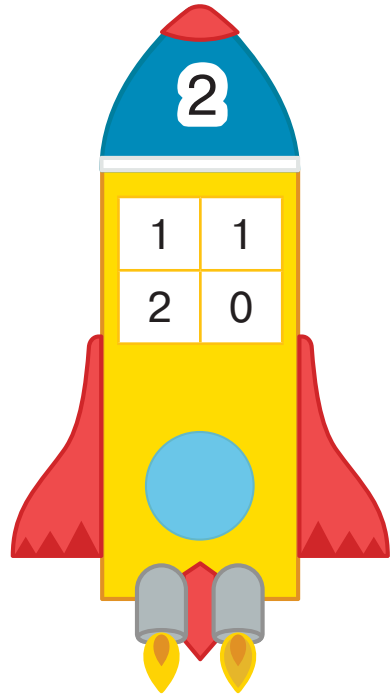




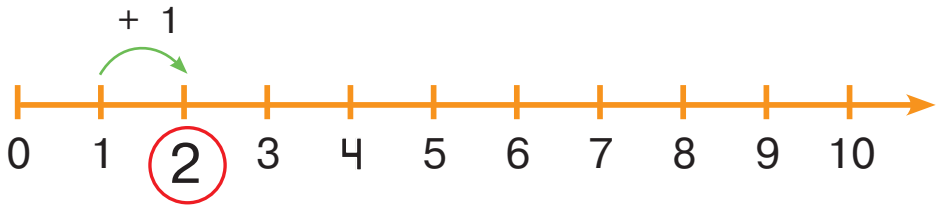


Куртку, шапку я надел,
А сапожки не успел.
Вот один. А где второй?
Оказался под ногой.





$$1 + 1 = 2$$



Вероника надела 1 . Затем взяла ещё 1 . Сколько всего  надела девочка?

--	--	--	--	--

Ответ:  .



7 7 7 7 7 7 7 7 7

7 7 7 7 7 7 7 7 7

7 7 7 7 7 7 7 7 7

8 8 8 8 8 8 8 8 8

8 8 8 8 8 8 8 8 8

8 8 8 8 8 8 8 8 8

9 9 9 9 9 9 9 9 9

9 9 9 9 9 9 9 9 9

9 9 9 9 9 9 9 9 9

10 10 10 10 10 10 10

10 10 10 10 10 10 10 10 10 10

+

—

—

1

2

3

4

5

6

7

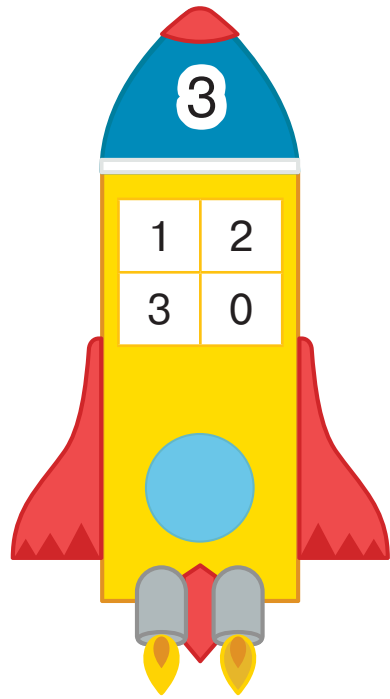
8

9

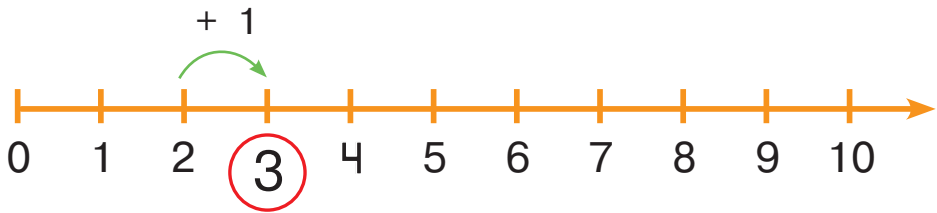
10




Кот тихонечко сидит
И за рыбками следит.
Две из них плывут к Наташе,
Ну, а третья — к брату Саше.





$$2 + 1 = 3$$



На стол поставили 2 . Затем добавили ещё 1 . Сколько  теперь стоит на столе?

--	--	--	--	--

Ответ:

