




# ТЕМА 1

# СЧЁТ ДО 5



1

В каждой строке раскрась столько предметов, сколько указывает цифра.

1					
2					
3					
4					
5					

2

Сосчитай, сколько человек стоит на остановке. Первый, четвёртый поедут на автобусе. Второй, пятый — на троллейбусе. Третий — на такси. Проведи линии от пассажиров к нужному транспорту.



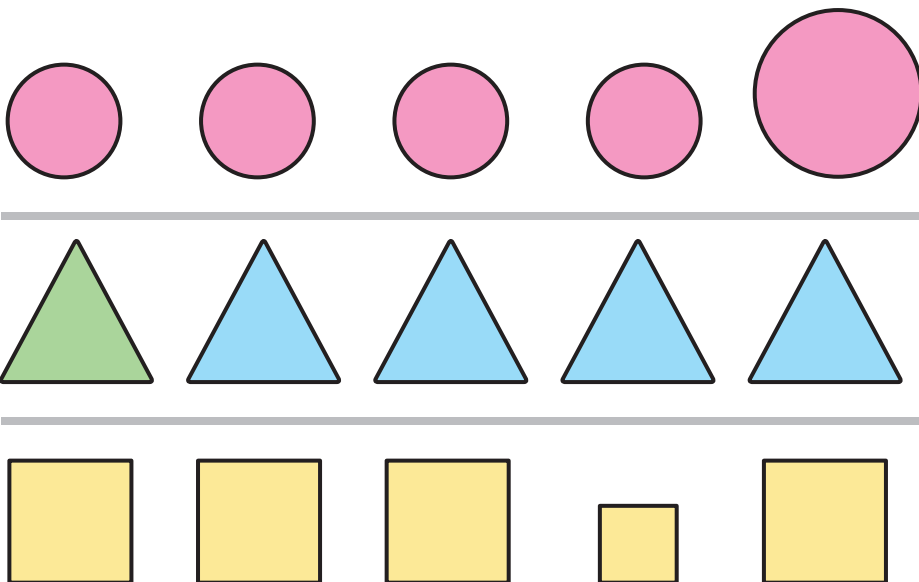
3 Покажи и назови все нарисованные цифры. Цифру 1 обведи синим карандашом, 2 — зелёным, 3 — жёлтым, 4 — красным, 5 — коричневым.



4 Покажи и назови все геометрические фигуры, все предметы. Соедини линиями фигуры с предметами, на которые они похожи.




5 В каждом ряду зачеркни лишнюю фигуру.





## ТЕМА 2

# число 6. цифра 6

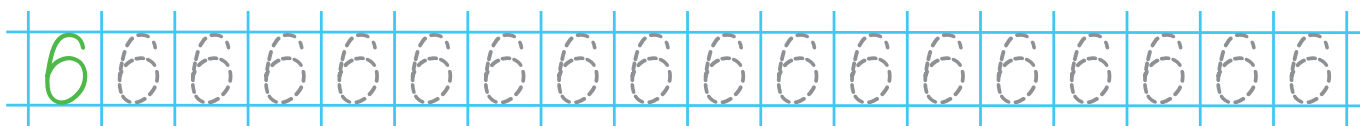


- 1 Сосчитай, сколько рыбок в первом аквариуме. Сколько — во втором?



- 2 Обведи все цифры 6 зелёным карандашом.

6



- 3 Сосчитай, сколько обезьян на картинке. Первая, четвёртая, шестая залезут на высокую пальму. Вторая, третья, пятая — на низкую. Проведи линии от обезьян к нужным пальмам.

