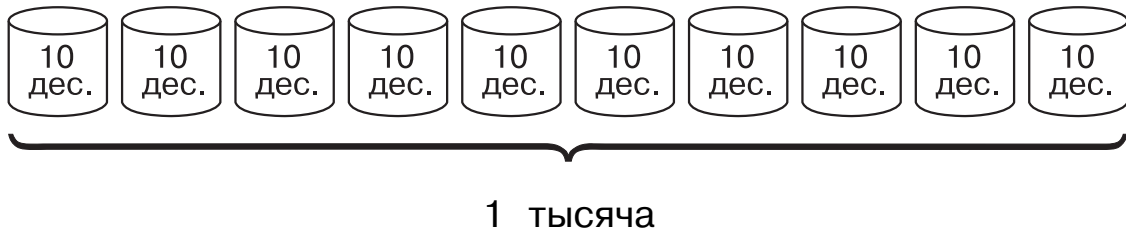








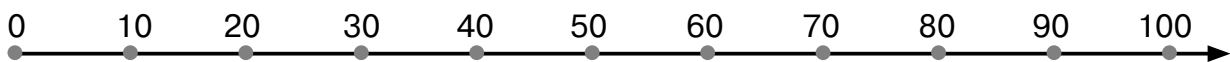
100 дес. = 1 тысяча  
или  
10 сот. = 1 тысяча



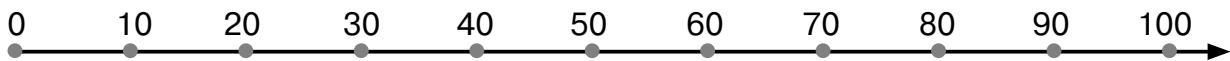
**3** Впиши пропущенные числа.

80 дес. = <input type="text"/> сот.	50 дес. 6 ед. = <input type="text"/> сот. <input type="text"/> ед.
40 дес. = <input type="text"/> сот.	70 дес. 5 ед. = <input type="text"/> сот. <input type="text"/> ед.
30 дес. = <input type="text"/> сот.	80 дес. 9 ед. = <input type="text"/> сот. <input type="text"/> ед.
70 дес. = <input type="text"/> сот.	40 дес. 8 ед. = <input type="text"/> сот. <input type="text"/> ед.

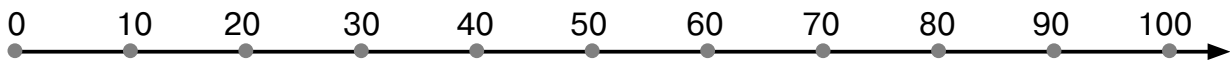
**4** Выполни задание на числовом луче.



$20 + 10 =$



$100 - 30 =$



$40 + 20 =$



