

Который час?

Умение определять время — очень важный навык. Чувство времени помогает всегда быть пунктуальным, организованным, дисциплинированным, всё успевать делать вовремя.

Обучение времени — непростая задача. С помощью нашего пособия с этой задачей можно легко справиться. Выполняя приведённые в нём задания, ребёнок научится быстро и правильно определять время по часам, доведя это умение до автоматизма.

Регулярно упражняйтесь. Пусть ребёнок периодически смотрит на часы в течение дня. Старайтесь чаще спрашивать его: «Который час?».

Условные обозначения

☀ — доброе утро, добрый день

☾ — добрый вечер, спокойной ночи


Мини-справочник

0:00– 5:59 — ночь

6:00–11:59 — утро

12:00–17:59 — день

18:00–23:59 — вечер



1-й класс

Знать назубок

1 г. = 12 мес. 1 неделя = 7 сут.
1 сут. = 24 ч 1 ч = 60 мин

Время суток: утро, день, вечер, ночь.

Неделя: понедельник, вторник, среда, четверг, пятница (рабочие дни);
суббота, воскресенье (выходные дни).

Осенние месяцы: сентябрь, октябрь, ноябрь.

Зимние месяцы: декабрь, январь, февраль.

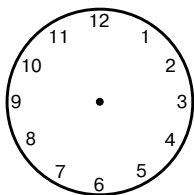
Весенние месяцы: март, апрель, май.

Летние месяцы: июнь, июль, август.

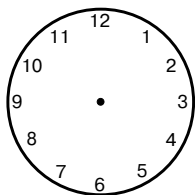
Рассмотри картинку и определи время года.



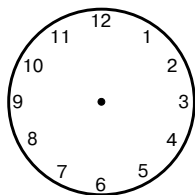
Час за часом. Сутки
Нарисуй стрелки



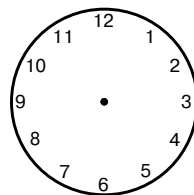
9 ч 00 мин



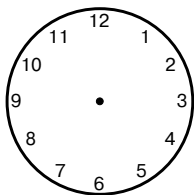
0 ч 00 мин



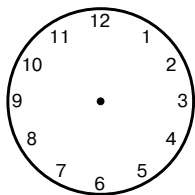
1 ч 00 мин



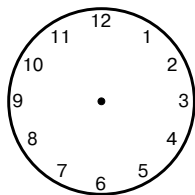
2 ч 00 мин



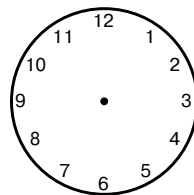
10 ч 00 мин



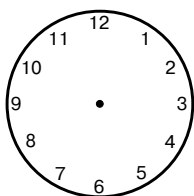
3 ч 00 мин



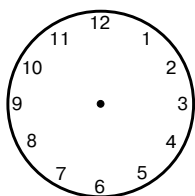
4 ч 00 мин



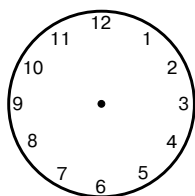
5 ч 00 мин



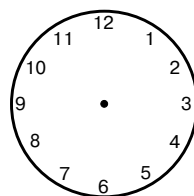
11 ч 00 мин



6 ч 00 мин




7 ч 00 мин

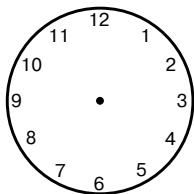


8 ч 00 мин

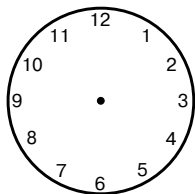
Рассмотри картинку и определи время года.



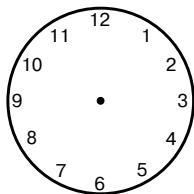
Час за часом. Сутки
Нарисуй стрелки



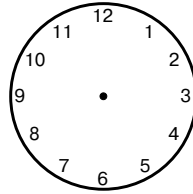
15 ч 00 мин



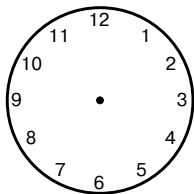
16 ч 00 мин



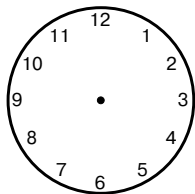
17 ч 00 мин



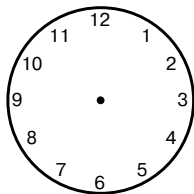
1 ч 00 мин



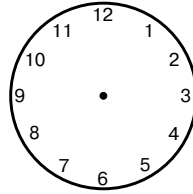
18 ч 00 мин



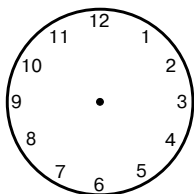
19 ч 00 мин



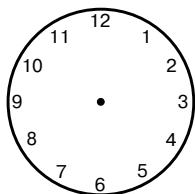
20 ч 00 мин



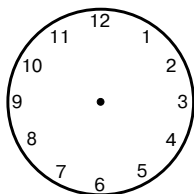
0 ч 00 мин



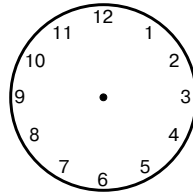
21 ч 00 мин



22 ч 00 мин



23 ч 00 мин



24 ч 00 мин

Рассмотри картинку и определи время года.

