

УДК 373.167.1:91
ББК 26.8я72
К40

Ким, Э. В.

К40 География : География России : Хозяйство и географические районы. 9 кл. : рабочая тетрадь к учебнику А. И. Алексеева, В. А. Низовцева, Э. В. Ким «География. География России. Хозяйство и географические районы. 9 класс» / Э. В. Ким, Н. А. Марченко, В. А. Низовцев. — 6-е изд., стереотип. — М. : Дрофа, 2020. — 128 с. : ил. — (Российский учебник).

ISBN 978-5-358-23360-7

Рабочая тетрадь является частью УМК по географии и предназначена для использования при работе с учебником под редакцией А. И. Алексеева «География. География России. Хозяйство и географические районы. 9 класс».

Рабочая тетрадь содержит разнообразные задания, направленные на закрепление основных знаний и умений по курсу, а также задания для подготовки к ОГЭ и ЕГЭ.

УДК 373.167.1:91
ББК 26.8я72

РОССИЙСКИЙ УЧЕБНИК

Учебное издание

Ким Эльвира Васильевна
Марченко Наталия Адольфовна
Низовцев Вячеслав Алексеевич

ГЕОГРАФИЯ. География России
Хозяйство и географические районы
9 класс

Рабочая тетрадь к учебнику А. И. Алексеева,
В. А. Низовцева, Э. В. Ким «География. География России.
Хозяйство и географические районы. 9 класс»

Ответственный редактор *В. А. Неходцев*. Оформление *Е. Б. Фалетова*
Художественное оформление *Э. К. Реоли*
Технический редактор *И. В. Грибкова*. Компьютерная верстка
С. Л. Мамедова. Корректор *С. М. Задворычева*

Подписано к печати 28.06.19. Формат 84 × 108 ¹/₁₆. Гарнитура «Школьная».
Печать офсетная. Усл. печ. л. 13,44. Тираж 3000 экз. Заказ №

ООО «ДРОФА». 123112, г. Москва, Пресненская набережная,
дом 6, строение 2, помещение № 1, этаж 14.



росучебник.рф/метод

Предложения и замечания по содержанию и оформлению книги
можно отправлять по электронному адресу: expert@rosuchebnik.ru
По вопросам приобретения продукции издательства обращайтесь:
тел.: 8-800-700-64-83; e-mail: sales@rosuchebnik.ru

Электронные формы учебников, другие электронные материалы и сервисы:
lecta.rosuchebnik.ru, тел.: 8-800-555-46-68

В помощь учителю и ученику: регулярно пополняемая библиотека дополнительных
материалов к урокам, конкурсы и акции с поощрением победителей, рабочие программы,
вебинары и видеозаписи открытых уроков rosuchebnik.ru/метод

12+

ISBN 978-5-358-23360-7

© ООО «ДРОФА», 2015
© ООО «ДРОФА», 2019, с изменениями

Содержание

Введение	4
Хозяйство России	5
Общая характеристика хозяйства	5
Задания для подготовки к ОГЭ и ЕГЭ	6
Главные отрасли и межотраслевые комплексы	7
Обобщение знаний по разделу «Хозяйство России»	32
Задания для подготовки к ОГЭ и ЕГЭ	33
Районы России.	41
Европейская часть России	44
Центральная Россия	47
Центральный экономический район	49
Центрально-Чернозёмный экономический район	55
Волго-Вятский экономический район	58
Северо-Западный экономический район	62
Европейский Север	68
Поволжье	73
Европейский Юг	77
Урал	83
Обобщение знаний по теме «Европейская часть России»	88
Задания для подготовки к ОГЭ и ЕГЭ	90
Азиатская часть России	99
Западная Сибирь	104
Восточная Сибирь	109
Дальний Восток	114
Обобщение знаний по теме «Азиатская часть России»	121
Россия в мире	123
Задания для подготовки к ОГЭ и ЕГЭ	125

Введение

Взаимодействие разнородных явлений
в пространстве — вот душа географии.

Н. Н. Баранский

При изучении географии вы знакомитесь с результатами исследований многих смежных наук. На схеме «Система географических наук» (рис. 1) разными цветами закрасьте названия тех наук, с которыми вы познакомились в 8 классе, и тех, о которых вы узнаете в 9 классе.



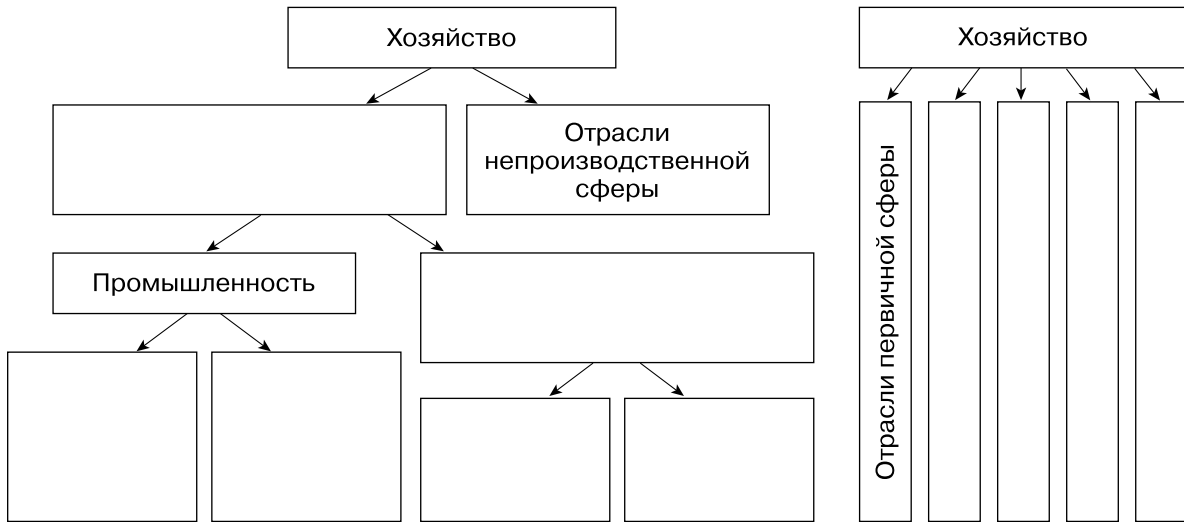
Рис. 1

ХОЗЯЙСТВО РОССИИ

Общая характеристика хозяйства

Понятие хозяйства. Его структура

1. Дополните схемы структуры хозяйства России и проанализируйте их. В чём между ними различие, а в чём — сходство? Какая из схем, на ваш взгляд, наиболее точно отражает структуру хозяйства нашей страны?



.....

.....

.....

.....

.....

.....

2. Одни и те же предприятия можно рассматривать как части отраслей хозяйства, секторов хозяйства и межотраслевых комплексов. Дополните таблицу, правильно расставив цифры.

Отрасли хозяйства: 1 — химическая промышленность, 2 — лесная промышленность, 3 — наука и просвещение, 4 — финансы и управление, 5 — строительство, 6 — сельское хозяйство, 7 — транспорт, 8 — торговля, 9 — деревообрабатывающая промышленность, 10 — целлюлозно-бумажная промышленность.

Секторы хозяйства: 1 — первичный, 2 — вторичный, 3 — третичный, 4 — четвертичный.

Предприятие	Отрасль хозяйства	Сектор хозяйства
НИИ лесного хозяйства
Лесозаготовительная артель
Целлюлозно-бумажный комбинат
Древесностружечный комбинат
Мебельная фабрика
Мебельный магазин
Судоходная компания, перевозящая лес на баржах
Леспромбанк

Задания для подготовки к ОГЭ и ЕГЭ

- Укажите, какая из перечисленных отраслей хозяйства относится к первичному сектору экономики.
 - лесозаготовка
 - строительство
 - автомобилестроение
 - трубопроводный транспорт
- Укажите, какая из перечисленных отраслей хозяйства относится к третичному сектору экономики.
 - пищевая промышленность
 - рыболовство
 - проектно-конструкторские работы
 - транспорт
- Назовите отрасли экономики, по развитию которых Россия находится в числе мировых лидеров. Запишите обоснование своего ответа.

.....

.....

.....

.....

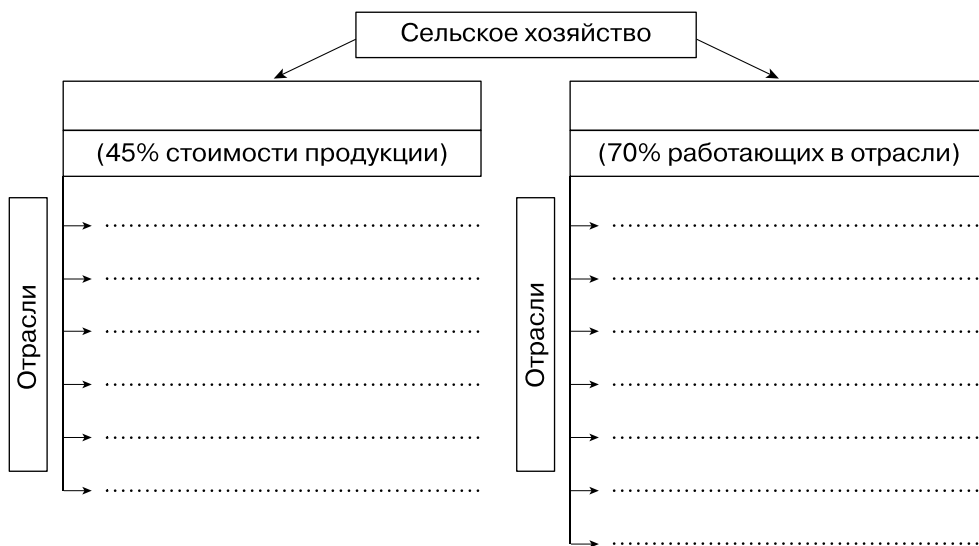
.....

.....

Главные отрасли и межотраслевые комплексы

Сельское хозяйство. Растениеводство

1. Используя текст учебника, дополните схему.



2. Установите стрелками соответствие между основными видами пшеницы, их характеристиками и районами выращивания.

Характеристика	Пшеница	Районы выращивания
Более урожайна	Озимая	Заволжье, юг Урала и Сибири
Более засухоустойчива		
Более требовательна к почвам	Яровая	Центрально-Чернозёмный район, Северный Кавказ, правобережное Поволжье
Лучшие хлебопекарные качества		

3. Подчеркните сельскохозяйственные культуры, имеющие наибольшую площадь распространения в России: *рожь, ячмень, рис, сахарная свёкла, подсолнечник, пшеница, картофель, лён.*

4. Укажите названия экономических районов России, специализирующихся на зерновом хозяйстве:

- 1) Северо-Западный;
- 2) Центральный;
- 3) Северо-Кавказский;
- 4) Поволжский;
- 5) Волго-Вятский;
- 6) Западно-Сибирский;
- 7) Уральский;
- 8) Дальневосточный.

5. Заполните таблицу «Основные технические культуры России», пользуясь таблицами приложений, текстом учебника и атласом.

Культура	% посевных площадей	Требования к климатическим условиям	Районы выращивания	Продукция
.....	Требовательна к теплу, засухоустойчива	Масло, жмых, халва
.....	Сахар
.....	Юг Дальнего Востока
.....	Крахмал, спирт
.....	Влажный мягкий климат

6. Подчеркните в каждой паре культуру, имеющую более южный ареал выращивания: *пшеница — рожь; овёс — просо; сахарная свёкла — подсолнечник; кукуруза — ячмень.*

7. Укажите субъекты России, специализирующиеся на молочном скотоводстве: *Забайкальский край, Тульская, Рязанская, Брянская, Волгоградская, Оренбургская, Белгородская, Архангельская, Ростовская области.*

8. Проанализируйте таблицы приложений к учебнику, ответьте на вопросы.

а) Какова доля пашни в земельных угодьях России?

.....

б) Какова обеспеченность пашней на душу населения в России по сравнению с другими странами мира?

9. От каких условий зависит развитие сельского хозяйства?
-
10. Используя агроклиматическую карту атласа, ответьте на вопросы.
- а) Какую информацию можно получить из этой карты?
-
-
- б) Чем различаются агроклиматические ресурсы европейской и азиатской частей России?
-
-
-
- в) В каких агроклиматических поясах находятся основные сельскохозяйственные районы?
-
-
-
- г) Как изменяется состав выращиваемых сельскохозяйственных культур с севера на юг России?
-
-

ЖИВОТНОВОДСТВО

Заполните таблицу.

Вид животноводства	Особенности разведения	Основная получаемая продукция
Крупный рогатый скот молочного направления	Необходимы естественные пастбища с заливными лугами	Молоко
.....
.....


Вид животноводства	Особенности разведения	Основная получаемая продукция
.....
.....
.....
.....

АПК. Лёгкая и пищевая промышленность

1. Определите факторы, отрасли и районы размещения предприятий лёгкой промышленности. Заполните таблицу.

Факторы размещения	Отрасль лёгкой промышленности	Районы размещения
Сырьевой	Центральный и Северо-Западный
Потребительский и исторический	Центральный, Поволжский (Ульяновская область)
.....	Хлопчатобумажная
.....	Шёлковая
.....	Обувная и швейная	По всей стране

2. Впишите в схему предприятия агропромышленного комплекса, расположенные на территории вашего региона.



Сделайте вывод об особенностях взаимодействия различных звеньев АПК на территории вашего региона.

.....

.....

.....

3. Проанализируйте географию пищевой или лёгкой промышленности своего региона. Заполните таблицу.

Продукция, производящаяся в вашем регионе	Продукция, поступающая в ваш регион	Продукция, вывозимая из вашего региона
.....
.....
.....
.....
.....
.....
.....

Вывод.

.....

.....

4. На основании анализа карты «Лесная промышленность» в атласе и рисунка «Лесной комплекс» в учебнике ответьте на вопросы.

а) Какую информацию можно получить из карты и рисунка?

.....
.....

б) Где в России находятся лесоизбыточные и лесодефицитные территории?

.....
.....
.....

в) Где находятся основные районы лесозаготовок?

.....
.....

г) Каковы важнейшие факторы размещения предприятий деревообрабатывающей и целлюлозно-бумажной промышленности?

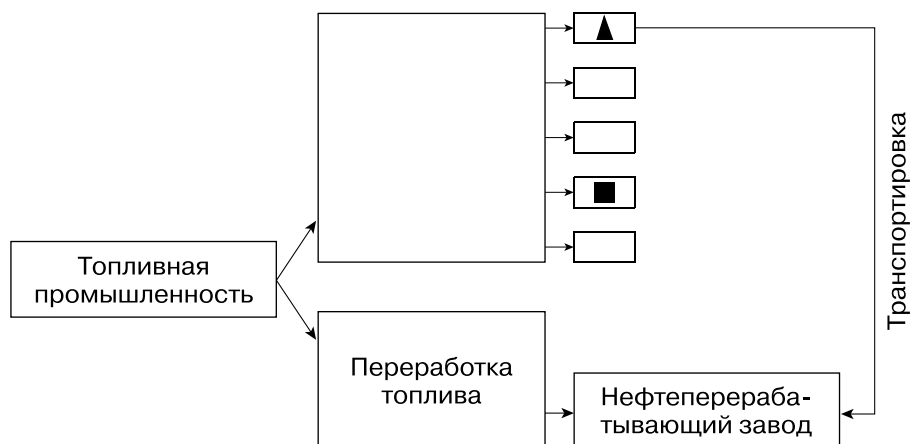
.....
.....

Вывод.

.....
.....

Топливо-энергетический комплекс. Топливная промышленность

1. Дополните схему «Состав топливной промышленности».



2. Какой вид топлива:

а) был основным в России в эпоху индустриализации;

б) является основным в России в настоящее время;

в) является самым экологически чистым?

3. Подчеркните бассейн с самой низкой в России себестоимостью добычи угля: *Печорский, Донецкий, Подмосковский, Кизеловский, Канско-Ачинский, Кузнецкий, Южно-Якутский*. Ответ аргументируйте.

4. На рисунке 2 цифрами обозначьте угольные бассейны:

1 — Печорский;

6 — Тунгусский;

2 — Донецкий;

7 — Кизеловский;

3 — Южно-Якутский;

8 — Канско-Ачинский;

4 — Иркутский;

9 — Партизанский.

5 — Кузнецкий;

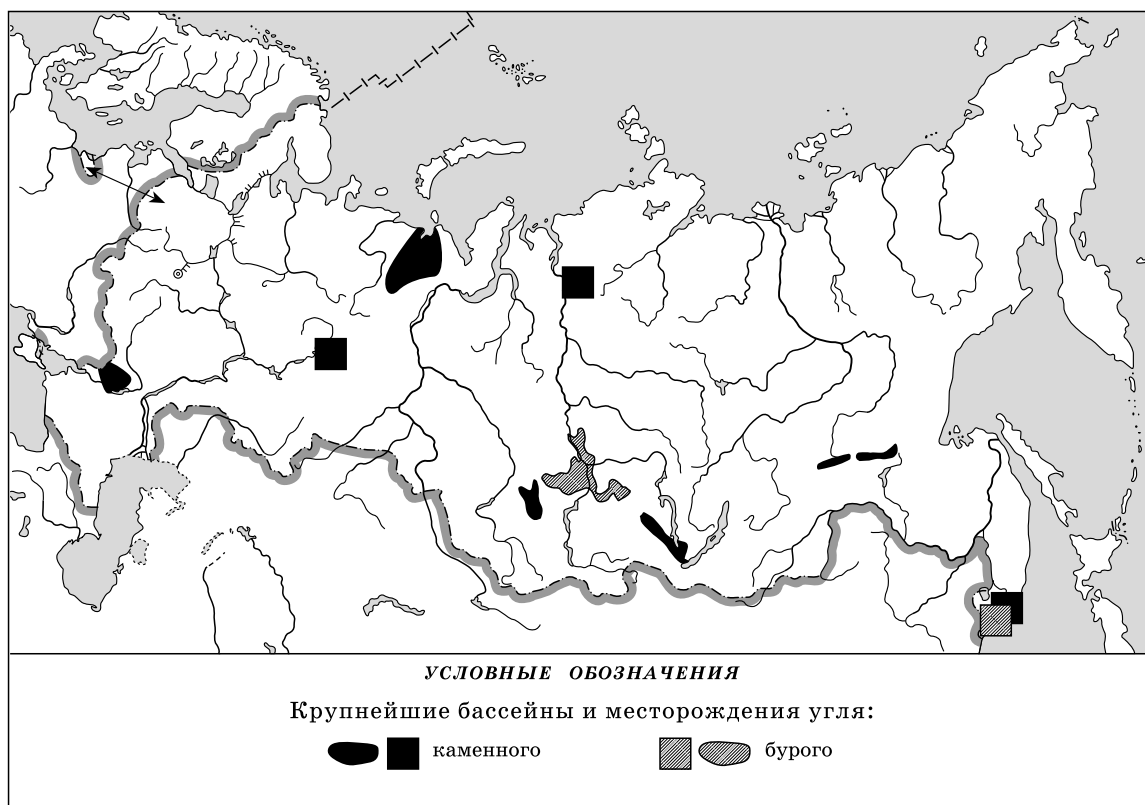


Рис. 2