




## ЧИСЛА ОТ 1 ДО 100

• В кондитерском магазине мороженое в вафельном стаканчике стоит 65 рублей, шоколадка — 78 рублей, конфета — 10 рублей, пачка печенья — 68 рублей, вафли — 64 рубля, мороженое в брикете — 66 рублей, упаковка сушек — 63 рубля.

Вырежи и наклей картинки в порядке возрастания цены изображённых на них продуктов.



Ответь на вопросы.

Сколько стоят 3 конфеты? \_\_\_\_\_

На сколько дешевле мороженое в вафельном стаканчике, чем мороженое в брикете? \_\_\_\_\_

Что дороже: 5 конфет или одна упаковка сушек? \_\_\_\_\_

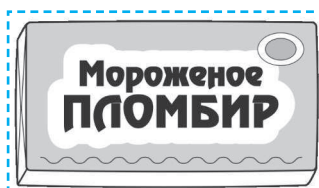
Сколько стоит пачка печенья и 2 конфеты? \_\_\_\_\_



65 руб.



63 руб.



66 руб.



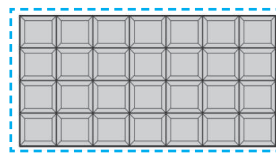
10 руб.



64 руб.



68 руб.




78 руб.

- Подчеркни равенства, которые станут верными, если в квадратик вписать число 1.

$$98 + \square = 99 \quad 47 = 46 - \square \quad \square + 32 < 34$$

$$25 - \square = 15 \quad 74 - \square > 72 \quad 80 = 81 - \square$$

- Илья потратил четыре монеты по 10 р. и одну монету 5 р. После этого у него осталось на 1 р. больше, чем он потратил. Обведи монеты, которые остались у Ильи.



- После уроков ученики занимаются в кружках «Вышивание», «Яркие краски», «Футбол» и «Поём дружно».

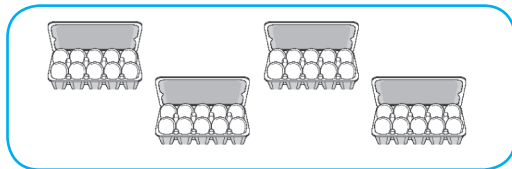
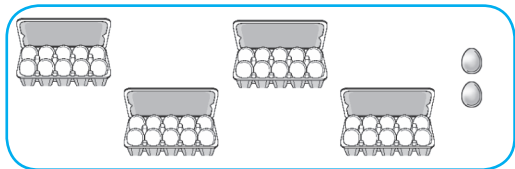
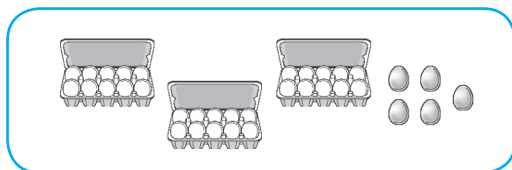
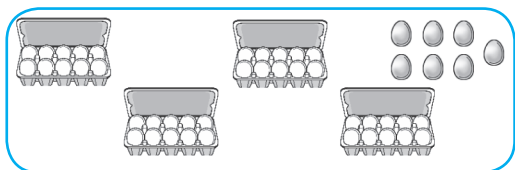
Название кружка	Количество учеников
	20
	52
	21
	25

Больше всего детей играют в футбол, меньше всего — занимаются вышиванием. Поёт меньше учеников, чем рисует. Вырежи и наклей картинки в соответствующие ячейки таблицы. Количество учеников в кружке «Вышивание» увеличилось на 8. Сколько теперь детей занимаются вышиванием?

Количество детей, посещающих кружок «Футбол», уменьшилось на 2. Сколько теперь детей играют в футбол?



- Повар в детском саду собирается готовить на завтрак омлет. Он достал из холодильника больше 34 яиц, но меньше 42. Сколько яиц мог достать повар? Раскрась.



- Запиши по три числа, которые называют при счёте до и после числа 78.

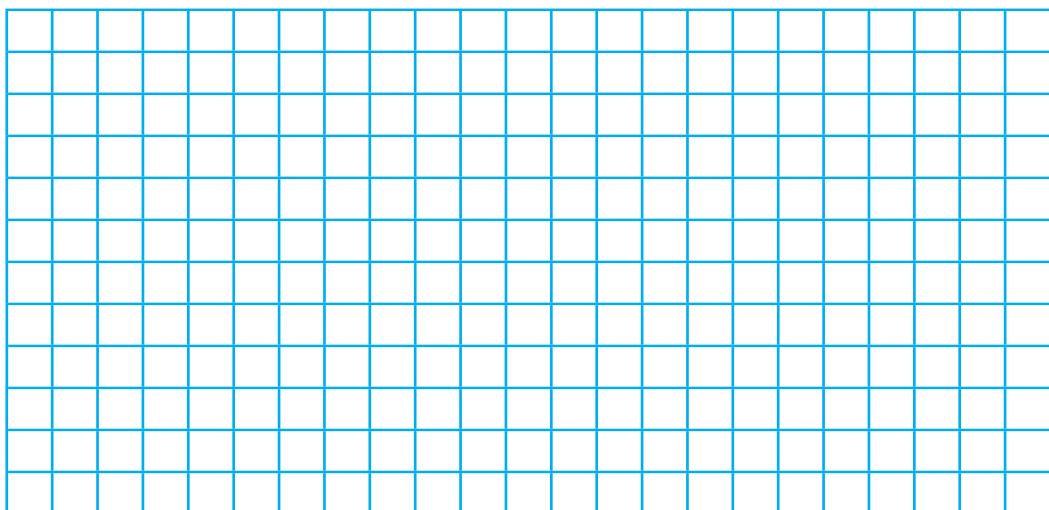
\_\_\_\_\_, 78, \_\_\_\_\_

- Запиши числа, которые называют при счёте между числами 37 и 42.

37, \_\_\_\_\_, 42


- Обведи все числа, в которых цифра 9 обозначает количество десятков.

19    97    92    9    49    59    90    89







## Устное сложение и вычитание в пределах 100

- Расставь вагоны в порядке возрастания чисел-ответов — вырежи и наклей картинки.



Раскрась красным карандашом вагон, на котором записан пример, в котором число 70 — вычитаемое; синим карандашом — пример, в котором 70 — уменьшаемое; жёлтым карандашом — вагоны с примерами, в которых 70 — слагаемое.

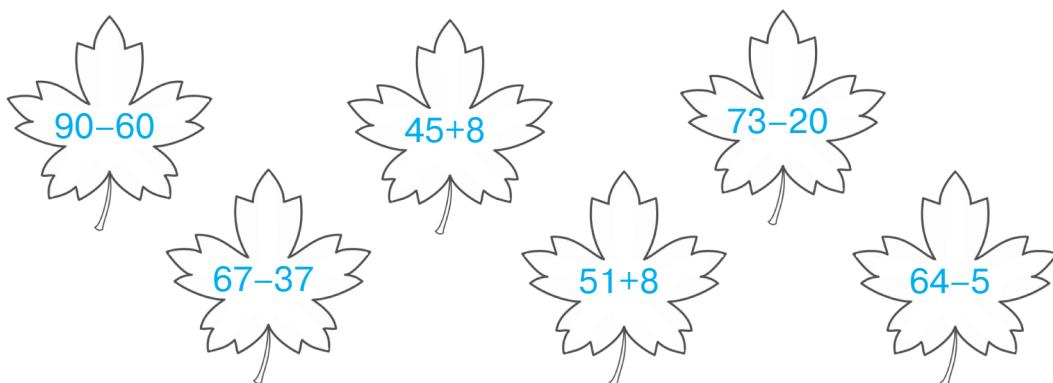


- На приготовление борща, котлет, макарон и компота надо потратить разное количество времени: 15 минут, 55 минут, 30 минут и 20 минут. Макароны готовятся быстрее остальных блюд. Если сначала сварить макароны, а потом сделать котлеты, то надо потратить 45 минут. Компот варится на 35 минут быстрее супа.

Запиши в таблицу время приготовления блюд.

Название блюда	Время приготовления
Макароны	
Котлеты	
Борщ	
Компот	

- Раскрась карандашами одного цвета листики с одинаковыми ответами.



- Расположи ответы в порядке возрастания и прочитай слово. Что оно обозначает?




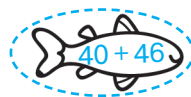



$80 - 7$		И
$36 + 4$		А
$41 + 23$		К
$86 - 40$		Л
$100 - 2$		А
$17 + 20$		Г
$96 - 15$		К
$59 - 7$		А
$17 + 52$		Т

--	--	--	--	--	--	--	--	--

- В каждом аквариуме плавают рыбки, на которых записаны примеры с одинаковыми ответами. Реши примеры, вырежи и наклей картинки.

--	--	--

Раскрась жёлтым карандашом рыбок, которые плывут вправо, зелёным — влево.





- Реши примеры и раскрась воздушный шар.

